



Che cos'è il denaro?

DATA _____

INFORMAZIONI PERSONALI

NOME _____

COGNOME _____

1 Questa è una moneta da 1 euro?



- A no, questa non è una moneta da 1 euro
 B sì, questa è una moneta da 1 euro

2 Quanto vale la moneta in figura?



- A 2 euro
 B 2 Centesimi

3 Sommando i centesimi in figura, quanti centesimi ottieni?



- A 90 centesimi
 B 80 centesimi

4 Se hai una moneta da 2 euro e una da 1 euro, quanto denaro hai in totale? Vuoi comprare una mela che costa 1,50 euro e un panino che costa 1,20 euro. Hai abbastanza denaro?



- A 2 euro
 B 3 euro. Sì, puoi comprare entrambi, perché il totale è 2,70 euro



Ⓒ 4 euro

5 Hai 5 euro e compri una bibita che costa 3 euro. Quanto resto ricevi?



- Ⓐ 1 euro 50 centesimi di resto Ⓑ 2 euro di resto

6 Con 10 euro puoi comprare: una pizza da 8 euro e una bibita da 3 euro? Hai abbastanza soldi?




- Ⓐ No, perché il totale è 11 euro Ⓑ Sì, perché il totale è 5 euro
Ⓒ Sì, perché il totale è di 7 euro


7 Hai 10 euro. Se compri un gelato che costa 6 euro, quanto ricevi di resto?


- Ⓐ 2 euro di resto Ⓑ 1 euro di resto
Ⓒ 4 euro di resto

8 Se stai facendo la spesa e hai 5 euro, quali di questi puoi comprare?



- Ⓐ  3,50 euro panino e 2 euro coca-cola

- Ⓑ  3,50 euro panino e 1,50 euro acqua

- Ⓒ  3,50 euro panino, 2 euro patatine, 2 euro coca-cola

9 Se una pizza costa 7,50 euro e una bibita costa 2,30 euro, quanto devo pagare se compro entrambi?

- Ⓐ 9 euro e 80 centesimi Ⓑ 8 euro e 90 centesimi

10 Se compro 2 confezioni di formaggio da 4,30 euro ciascuna e una bottiglia di vino da 6,50 euro, quanto pagherò in totale?

- Ⓐ 15 euro e 10 centesimi Ⓑ 20 euro



11 Qual è il valore della banconota più piccola in euro?

- A 50 euro
- C 10 euro

- B 20 euro
- D 5 euro

12 Qual è il valore della banconota più grande in euro?

- A 100 euro
- C 200 euro

- B 50 euro
- D 500 euro