



## ESERCIZI DI RIPASSO

1. Rileggi la scheda sull'arte paleocristiana e poi rispondi alle domande.

Che cos'è l'arte paleocristiana?

- L'arte dei primi Romani.
- L'arte dei primi cristiani.
- L'arte dei primi Ebrei.

Cosa accade nel periodo paleocristiano?

- Si diffonde la religione cristiana.
- Si diffonde la religione musulmana.
- Si diffonde la religione ebraica.

Quali nuovi edifici vengono costruiti nel periodo paleocristiano?

- Archi e templi.
- Chiese e battisteri.
- Anfiteatri e mausolei.

Cosa rappresentano gli scultori e i pittori cristiani?

- La vita degli imperatori romani.
- Le storie della Bibbia e la vita di Gesù.
- I combattimenti dei gladiatori.

Che cos'erano le catacombe?


- Chiese che si trovavano sotto terra.
- Cimiteri che si trovavano sotto terra.
- Vasche in cui si veniva battezzati.



2. Rileggi le schede sui simboli cristiani e poi abbinai i simboli alla spiegazione del loro significato.



1. PESCE




2. ANCORA



3. COLOMBA



4. BUON PASTORE



5. IL SERPENTE

\_\_\_ LA PASSIONE DI CRISTO

\_\_\_ GESÙ CRISTO

\_\_\_ LA CROCE E I CRISTIANI

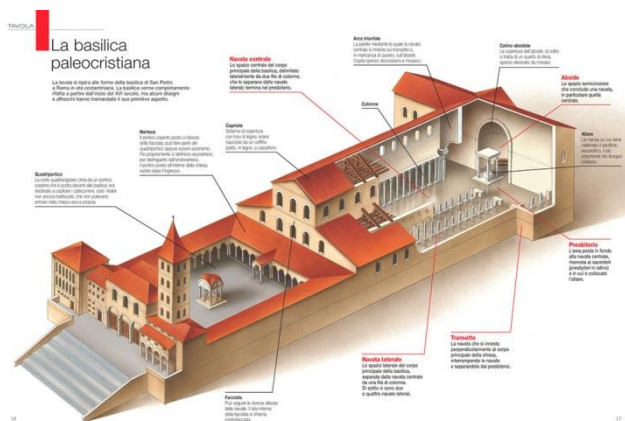
\_\_\_ IL MALE

\_\_\_ CRISTO CHE ACCUDISCE I SUOI FEDELI



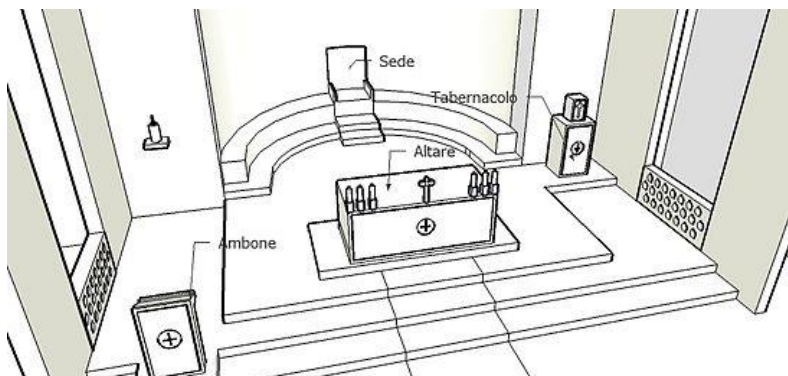
6.VITE E UVA

3. Rileggi le schede sulla basilica e gli edifici cristiani e poi rispondi alle domande.



Come si chiama l'edificio illustrato? \_\_\_\_\_.

Chi si riuniva all'interno di esso? \_\_\_\_\_.



Cosa rappresenta l'immagine?  
\_\_\_\_\_  
\_\_\_\_\_.

4. Scrivi il nome di almeno una delle più importanti basiliche paleocristiane.  
\_\_\_\_\_.


5. Cerchia l'alternativa corretta tra le due scritte in corsivo.

Il mausoleo era un edificio in cui *si seppelliva un defunto* / *si trovava una vasca per il battesimo*.



Il battistero era un edificio in cui *si seppelliva un defunto / si trovava una vasca per il battesimo*.

6. Rileggi la scheda sul mosaico e poi rispondi.




Quale delle due rappresenta un mosaico? La prima o la seconda?

---

Da cosa lo capisci?

---

7. Colora le tessere che formano il mosaico della farfalla.



8. Rileggi le schede sui mosaici del mausoleo di Galla Placidia e scrivi cosa rappresentano.

1. \_\_\_\_\_  
\_\_\_\_\_  
\_\_\_\_\_  
\_\_\_\_\_  
\_\_\_\_\_.

2. \_\_\_\_\_  
\_\_\_\_\_.

3. \_\_\_\_\_  
\_\_\_\_\_.

4. \_\_\_\_\_  
\_\_\_\_\_.



5.

---

---

---

---