



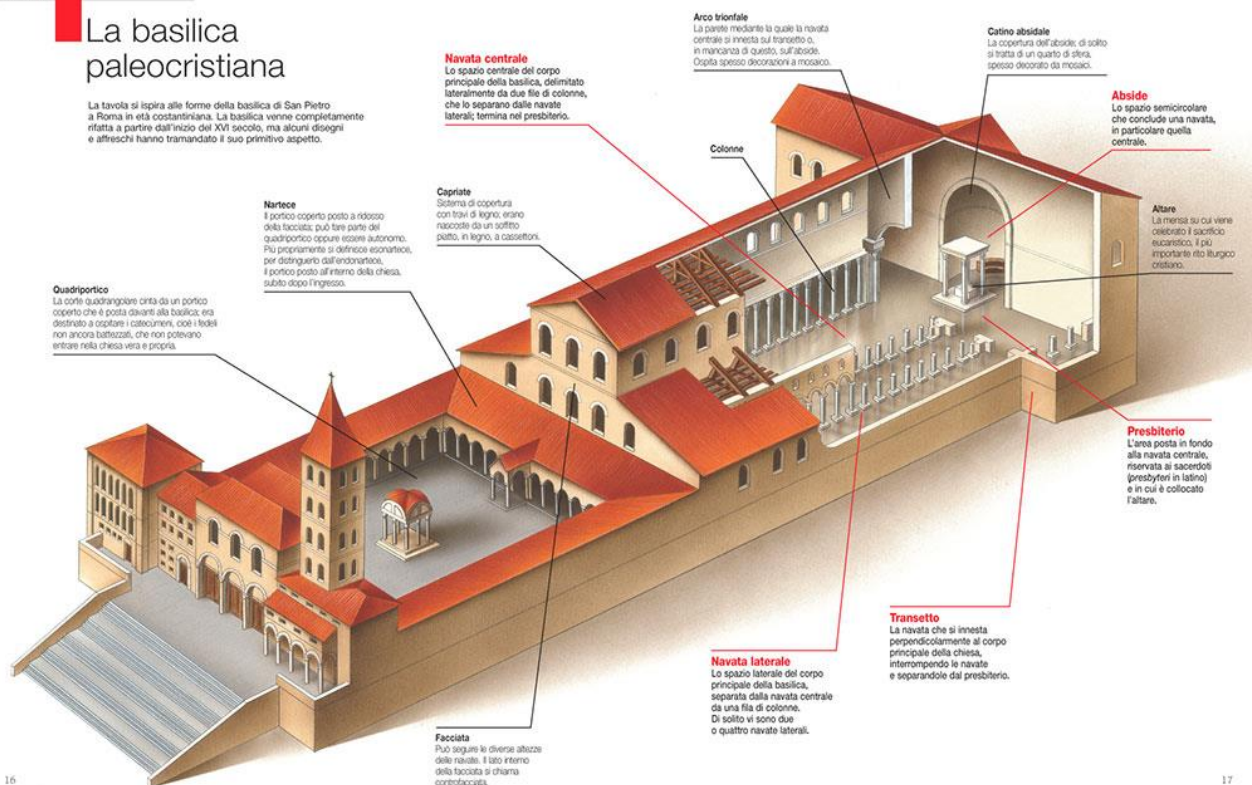
## LA BASILICA

La basilica è l'edificio in cui si riunivano tutti i cristiani.

TAVOLA

### La basilica paleocristiana

La tavola si ispira alle forme della basilica di San Pietro a Roma in età costantiniana. La basilica venne completamente rifatta a partire dall'inizio del XVI secolo, ma alcuni disegni e affreschi hanno tramandato il suo primitivo aspetto.



16

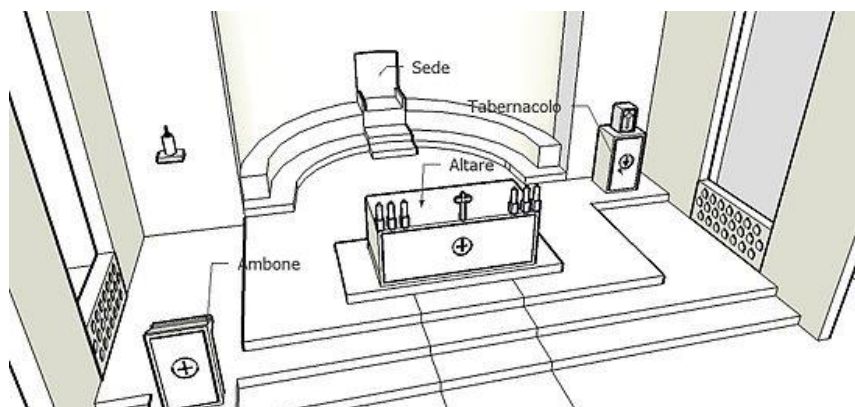
17

Il **quadriportico** era uno spazio per i non battezzati, all'ingresso della basilica, dove si trovava una vasca per il battesimo.

Le **navate** erano lunghi corridoi separati da file di colonne.

Il **presbiterio** era lo spazio in fondo al corridoio centrale riservato ai sacerdoti, dove si trovava l'**altare**.

L'**abside** era uno spazio semicircolare, che si trovava in fondo alla basilica, dietro all'altare.





Le più importanti basiliche paleocristiane sono quella di **San Pietro**, di **Santa Sabina** e di **Santa Maria Maggiore** a Roma.



## IL MAUSOLEO

Il mausoleo era un edificio di forma circolare dove veniva seppellito un personaggio importante, come ad esempio il **Mausoleo di Santa Costanza** a Roma.





## IL BATTISTERO

Il battistero era un edificio in cui si trovava una vasca per il battesimo, come ad esempio il **Battistero di San Giovanni** a Roma.



### Esercizi

#### 1. Rispondi alla seguente domanda.

Che cos'è la basilica?

---



---

#### 2. Completa le definizioni, inserendo correttamente i seguenti termini.

L'ABSIDE	IL QUADRIPORTICO	IL PRESBITERIO	LE NAVATE
----------	------------------	----------------	-----------

\_\_\_\_\_ è lo spazio per i non battezzati che si trova all'ingresso della basilica.

\_\_\_\_\_ sono lunghi corridoi separati da file di colonne.

\_\_\_\_\_ è lo spazio riservato ai sacerdoti.

\_\_\_\_\_ è uno spazio semicircolare che si trova in fondo alla basilica.



### 3. Colora la pianta della basilica, seguendo le indicazioni che ti vengono date.

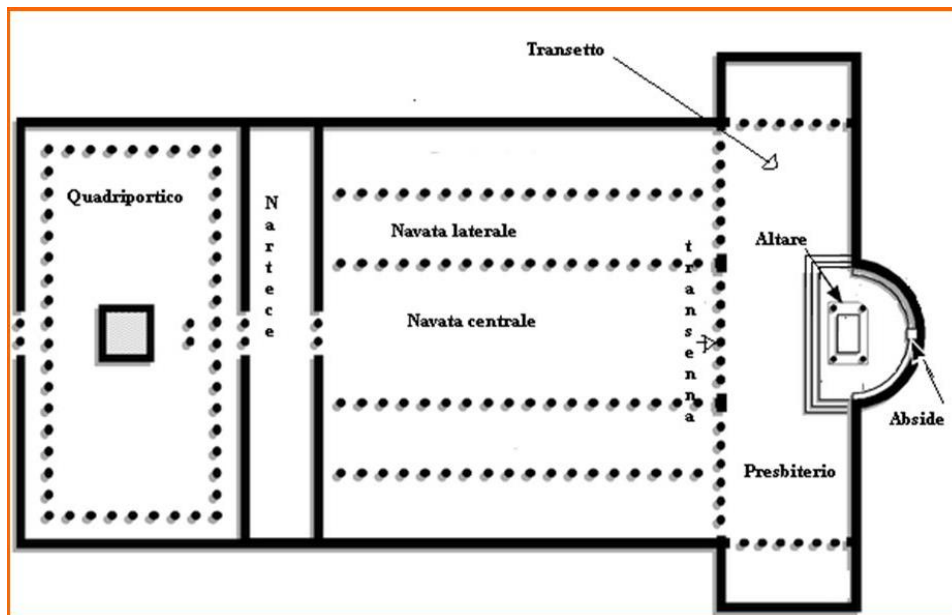
Quadriportico = giallo

Navata centrale = arancione

Navate laterali = celeste

Abside = rosso

Presbiterio = verde



### 3. Scrivi il nome delle tre più importanti basiliche paleocristiane.

---

### 4. Cerchia l'alternativa corretta tra le due scritte in corsivo.

Il mausoleo è un edificio di forma *quadrata* / *circolare*.

Il mausoleo era un edificio in cui *si seppelliva un defunto* / *si trovava una vasca per il battesimo*.

Il battistero era un edificio in cui *si seppelliva un defunto* / *si trovava una vasca per il battesimo*.